

小三溫習工作紙

姓名: _____ 日期: _____ 分數: _____

一) 四位加法

1.

	3	5	9	8
+	2	5	2	4

2.

	9	7	8	4
+	5	5	6	7

3.

	6	3	6	2
+	4	9	6	8

4.

	1	6	0	9
+	7	7	9	6

5.

	5	8	8	7
+	1	8	5	3

6.

	7	9	5	8
+	2	9	6	3

7.

	1	7	5	9
+	9	7	4	8

8.

	8	7	9	7
+	1	9	4	8

二) 四位減法

9.

	8	0	0	3
—	4	6	8	6

10.

	3	0	5	5
—	2	7	8	9

11.

	4	3	6	1
—	3	5	7	6

12.

	9	3	5	2
—	2	3	9	8

13.

	7	4	3	8
—	5	8	6	9

14.

	6	7	4	1
—	1	8	9	7

15.

	5	1	2	6
—	3	7	2	9

16.

	2	5	1	0
—		7	5	8

17.

	4	1	2	7
—	1	4	3	8

18.

	6	1	8	7
—	2	9	2	9

三) 三位數乘法

19.

	6	9	2
x			5

20.

	5	8	6
x			4

21.

	7	2	3
x			8

22.

	2	9	7
x			7

23.

	3	1	8
x			9

24.

	5	7	6
x			3

25.

	8	7	2
x			6

26.

	1	8	5
x			8

27.

	4	5	1
x			7

28.

	3	4	9
x			4

四) 三位數除法

29.

6)	5	8	0				

$580 \div 6 = \underline{\hspace{2cm} \dots \hspace{2cm}}$

30.

9)	2	6	1				

$261 \div 9 = \underline{\hspace{2cm} \dots \hspace{2cm}}$

31.

5)	4	2	5				

$425 \div 5 = \underline{\hspace{2cm} \dots \hspace{2cm}}$

32.

7)	3	1	3				

$313 \div 7 = \underline{\hspace{2cm} \dots \hspace{2cm}}$

四) 三位數除法

33.

	7)	9	6	7				

34.

	3)	7	8	9				

35.

	4)	6	1	1				

36.

	8)	9	9	8				

五) 文字題


37. 一個玻璃裝飾品售267元，買四送一。購買8個，應付多少元？

38. 服裝店推出新年優惠。購買兩對襪子可免費獲贈一對。妹妹付245元有7對襪子。即每對襪子售多少元？


39. 一個恐龍玩具售6371元，比一個洋娃娃貴1716元。此外，一架模型飛機比一個洋娃娃貴975元。一架模型飛機售多少元？

五) 文字題


40. 每部桌上電腦售2198元。爸爸付5000元購買2部電腦。應找回多少元？



41. 一大袋紅豆有288公斤。把紅豆分成6小袋，每一袋有紅豆多少公斤？



42. 若果Chris每日儲5元，一年後他有多少元？



五) 文字題

43. 合唱團共有163人，需要平均分成9組。如果所有人都要分組，最後一組會有多少人？

44. 貨車原本載有橙942個，但運送過程中有96個變壞了。水果店把餘下的橙每6個裝成一袋，可裝成多少袋？

45. 一袋牛油餅乾重235克；一袋巧克力餅乾比牛油餅乾多59克。6袋巧克力餅乾共重多少克？

六) 五位數

46. 利用「1」、「1」、「3」、「6」、「7」、「7」、「8」拼出：

 a. 最大的五位數 答：_____

 b. 最小的五位單數，但需要大於37 000 答：_____

 c. 最大的五位雙數，但需要小於80 000 答：_____

47. 完成下列規律。

a. 43 500 , _____ , _____ , 45 000 , _____ , 46 000

b. _____ , 67 500 , _____ , 67 000 , _____ , 66 500

c. 89 700 , _____ , _____ , _____ , 90 100 , _____

48. 在50 919這個數中，

a. 千位的數字是「_____」；_____位的數字是「5」。

b. 「1」代表的數值是_____。

c. 兩個「9」代表的數值相差_____。

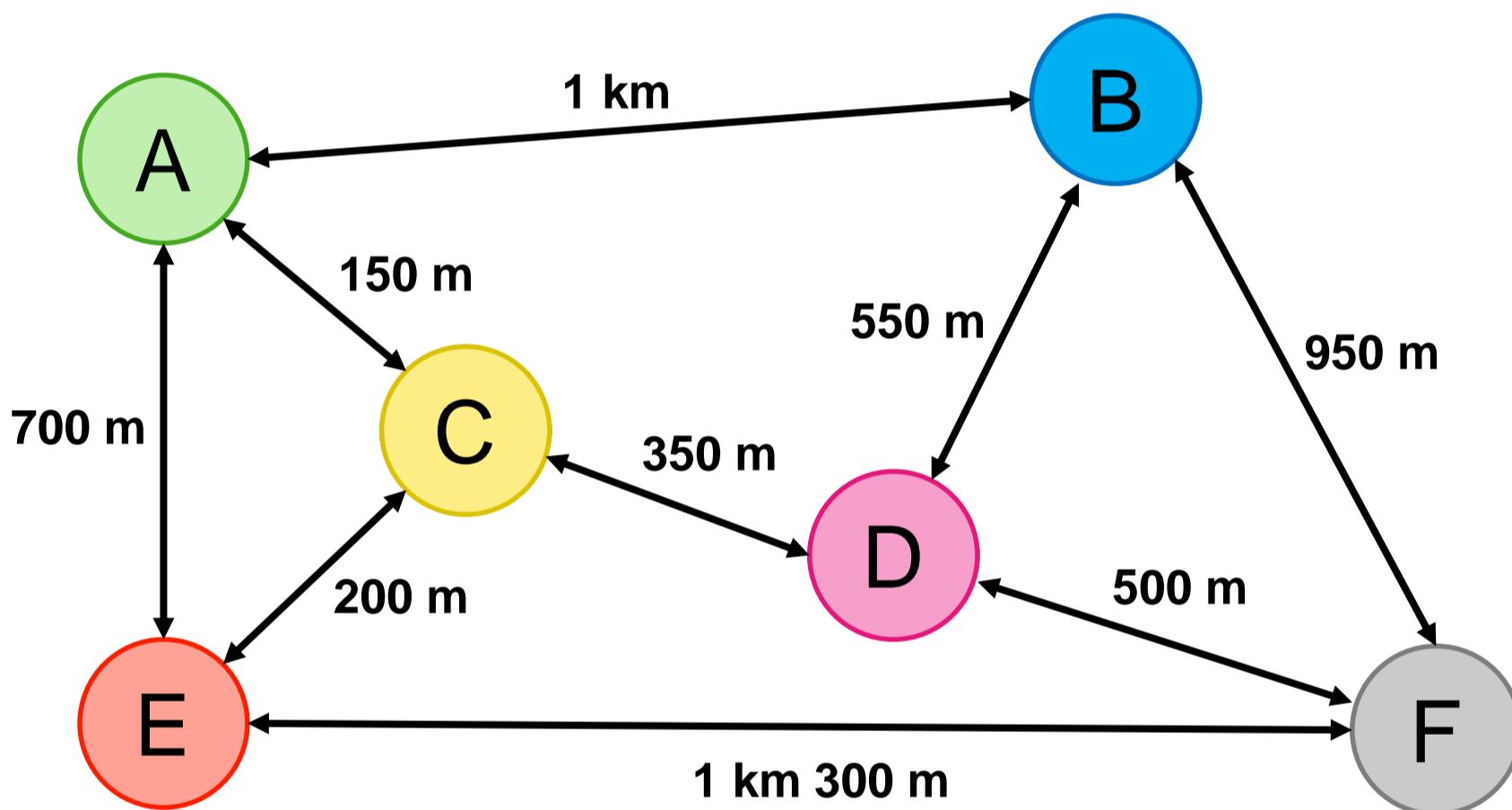
七) 時間

	開始時間	經過時間	結束時間
49.	3:42:27 p.m.	_____	7:09:13 p.m.
50.	_____	2小時55分鐘30秒	上午11時51分26秒

	開始時間	經過時間	結束時間
51.	10:33:46 p.m.	7:26:05	_____

八) 路程

細閱下圖，回答下列問題。



52. E點和F點相距_____m。

53. 由C點，經過D點，到B點，路線共長_____m。

54. 由A點到F點，哪條路線是最短？

- A. A -> B -> F
- B. A -> C -> D -> F
- C. A -> E -> F

答：_____

55. 承上題，路程一共是_____km。