

小三溫習工作紙 (下學期)

姓名: _____ 日期: _____ 分數: _____

一) 括號

1. $688 - 75 + 199$

2. $688 - (75 + 199)$

3. $138 + 413 \times 6$

4. $(138 + 413) \times 6$

5. $584 \times 7 - 2$

6. $584 \times (7 - 2)$

一) 括號

7. $5000 - 6 \times (159 - 89)$

8. $5000 - 6 \times 159 - 89$

第9題至第11題，在適當的位置加上括號，使算式成立。

9. $331 - 125 + 36 = 170$

10. $57 + 12 - 8 \times 46 = 241$

11. $268 \div 4 - 2 - 1 = 133$

12. 以下哪一條算式是正確？

A. $25 + 125 \div 5 = (25 + 125) \div 5$

B. $114 \div (2 \times 3) = 114 \div 2 \times 3$

C. $688 - 200 + 199 = 688 - (200 - 199)$


D. $9 + 4 \times 48 = (9 + 4) \times 48$

答：_____

二) 分數

第13題至第16題，用分數表示著色部分。

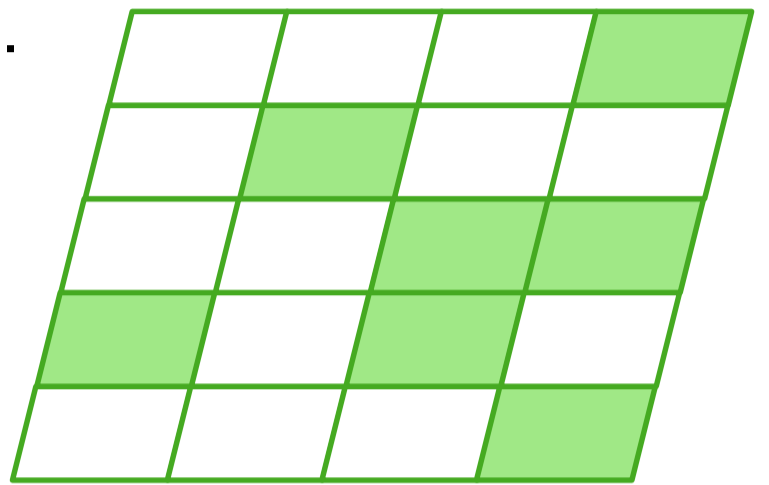
13.



寫作：_____

讀作：_____

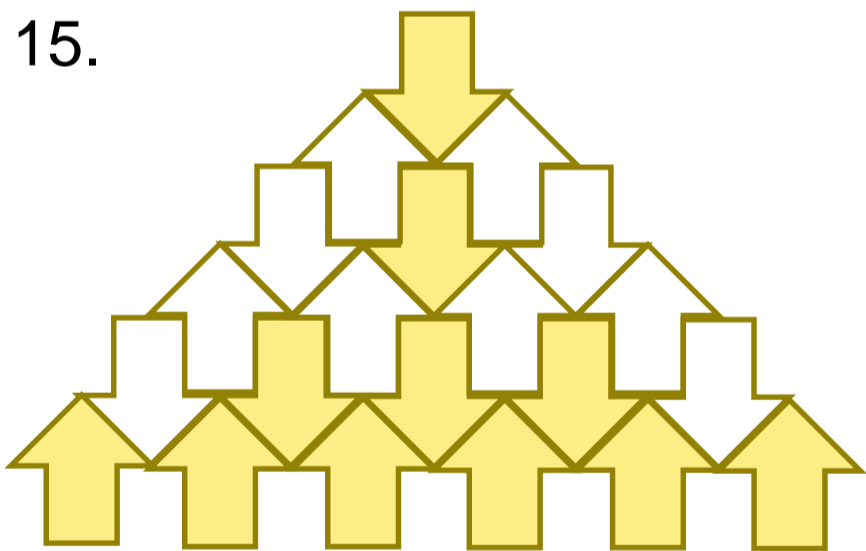
14.



寫作：_____

讀作：_____

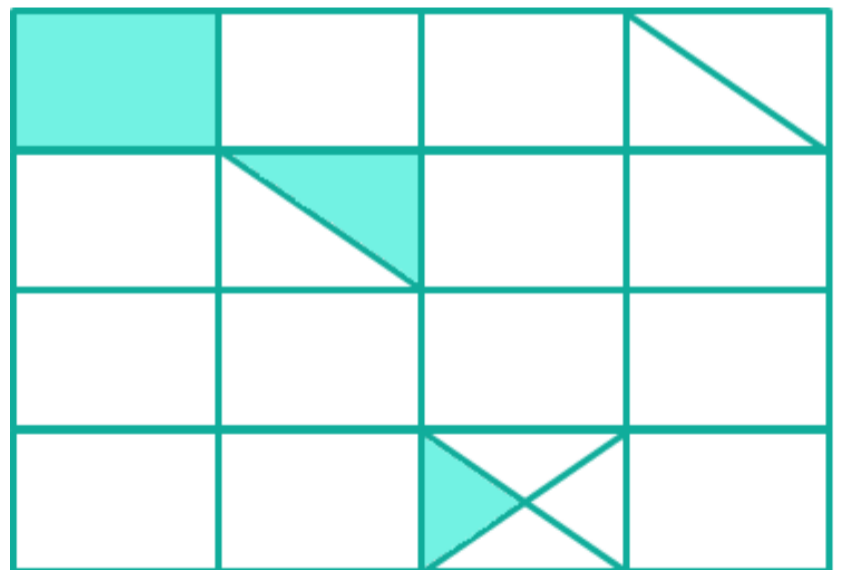
15.



寫作：_____

讀作：_____

16.



寫作：_____

讀作：_____

二) 分數

 17. 把下列分數由小至大排列出來。

$$\frac{5}{12}$$

$$\frac{1}{12}$$

$$\frac{11}{12}$$

答：_____ < _____ < _____

 18. 把下列分數由大至小排列出來。

$$\frac{7}{15}$$

$$\frac{7}{7}$$

$$\frac{7}{13}$$

答：_____ > _____ > _____

三) 二十四小時制

	十二小時制	二十四小時制
19.	9 : 05 a.m.	_____
20.	_____	17 : 21
21.	10 : 36 p.m.	_____
22.	_____	12 : 27
23.	12 : 56 a.m.	_____
24.	11 : 48 p.m.	_____

三) 二十四小時制

	開始時間	經過時間	結束時間
25.	11 : 55 : 38	_____	14 : 13 : 38
26.	_____	1小時10分鐘	20 : 45 : 16
27.	07 : 25 : 59	2小時37分鐘	_____
28.	_____	44分鐘	00 : 20 : 15

四) 重量

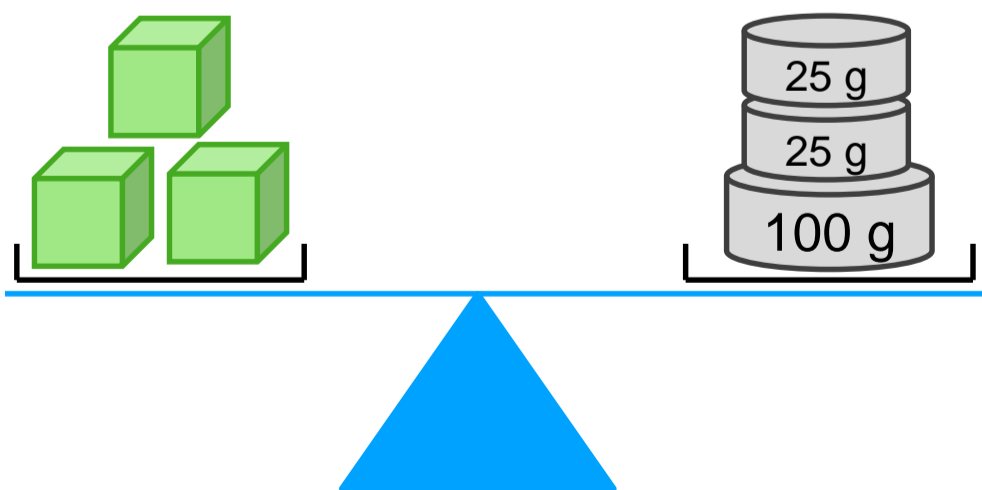

29. $1 \text{ kg} = \text{_____ g}$

30. $2,300 \text{ 克} = \text{_____ 公斤} \text{_____ 克}$

31. $2 \text{ 公斤} 7 \text{ 克} = \text{_____ 克}$

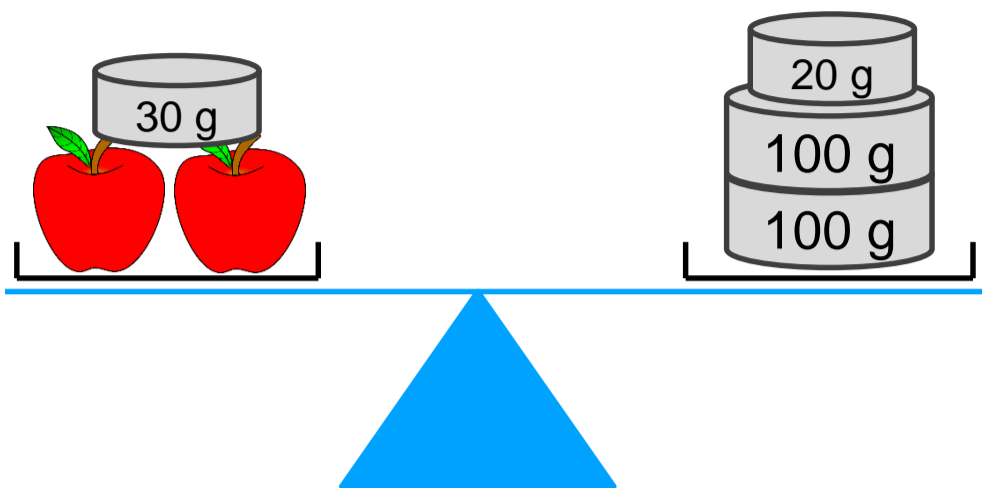

32. $3,040 \text{ g} = \text{_____ kg} \text{_____ g}$

33.

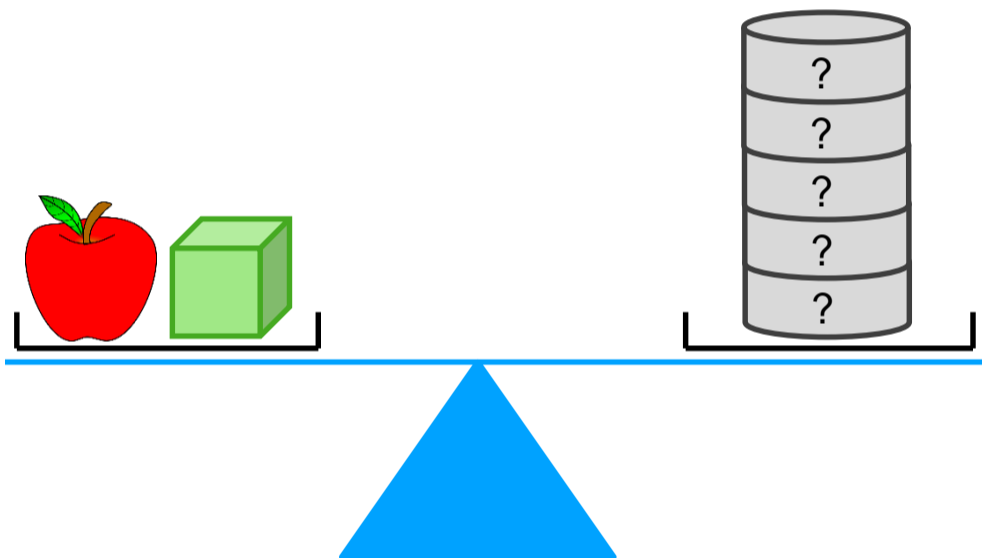


 答：  = _____

四) 重量

34.


 答：  = _____

35.


 答：  = _____

五) 容量

36. 2 升 = _____ 毫升

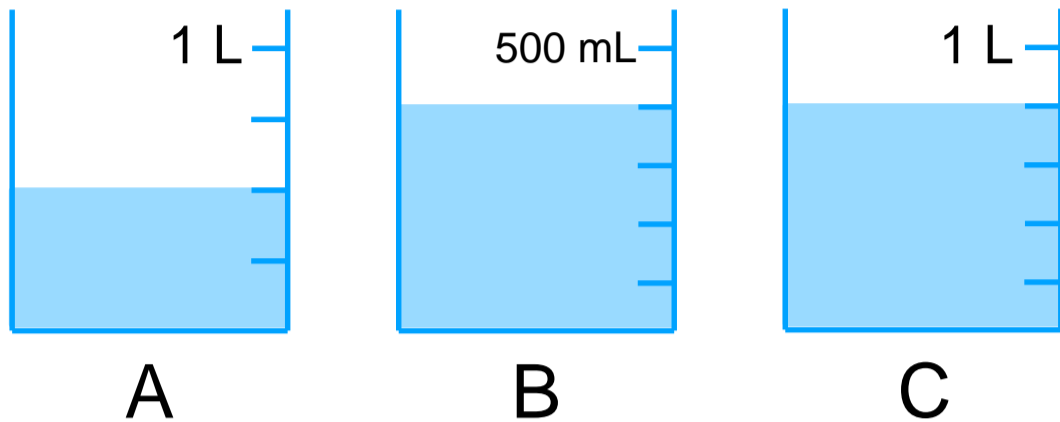
37. 1,525 mL = _____ L _____ mL

38. 3 L 10 mL = _____ mL

39. 5,005 毫升 = _____ 升 _____ 毫升

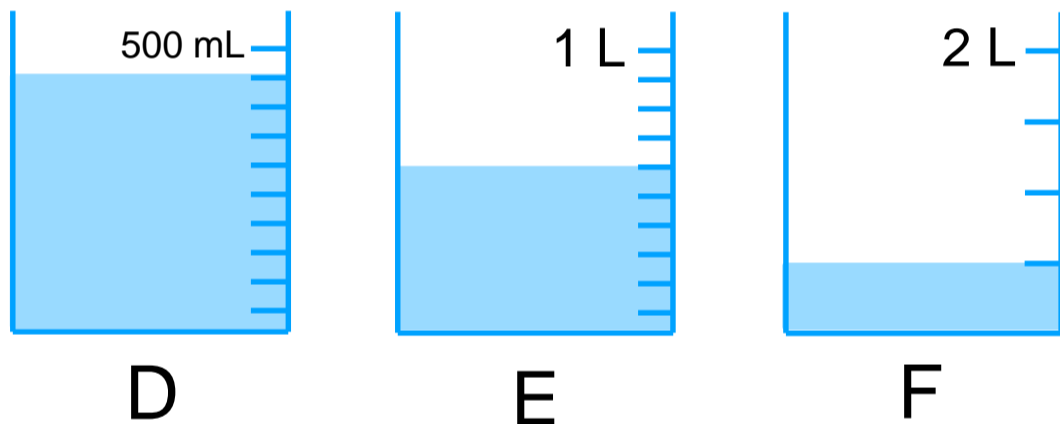
五) 容量

40. 比較下列量杯內水的多少。



答：_____ > _____ > _____

41. 比較下列量杯內水的多少。



答：_____ < _____ < _____

六) 圖形

42. 平行四邊形有平行線多少對？

答：_____ 對

43. 下列哪一項描述是正確的？

- A. 等腰三角形中，每一條邊長度都是相同。
- B. 等邊三角形中，只有兩條邊的長度是相等。
- C. 等邊直角三角形並不存在。
- D. 鈍角不可以出現在三角形中。

答：_____

七) 文字題

44. 哥哥在書店用500元購買一本268元的字典和一本156元的小說，應找回多少元？

45. 表哥和表弟分別喝了157毫升和154毫升汽水後，汽水還餘下439毫升。汽水原本有多少毫升？

46. 一包手工紙有黃色手工紙267張和綠色手工紙296張。3包共有手工紙多少張？

七) 文字題

47. 媽媽把兩盒各重264克的巧克力分成3小袋。每小袋有巧克力多少克？

48. 圖書館有書架7個。書架每一層可以放書27本，每一個書架有3層。圖書館內有書多少本？

49. Mary有一隻橘色貓和一隻白色貓。橘色貓重2120 g，白色貓比橘色貓輕392 g。兩隻貓一共重多少g？

七) 文字題

50. Gigi用了408分鐘做了6份數學練習。Gigi平均每份練習用了多少分鐘？

51. 哥哥有零用錢179元。新年時，哥哥的利是錢有550元。哥哥打算買一隻813元的遊戲光碟，還欠多少元？

52. 藍色絲帶長348米。黃色絲帶的長度是藍色絲帶的4倍。妹妹用了黃色絲帶367米，餘下黃色絲帶多少米？

答案

1. 812

2. 414

3. 2616

4. 3306

5. 4086

6. 2920

7. 4580

8. 3957

9. $331 - (125 + 36) = 170$

10. $57 + (12 - 8) \times 46 = 241$

11. $268 \div (4 - 2) - 1 = 133$

12. C

13. $\frac{3}{8}$; 八分之三

14. $\frac{7}{20}$; 二十分之七

15. $\frac{11}{21}$; 二十一分之十一

16. $\frac{7}{64}$; 六十四分之七

17. $\frac{1}{12} < \frac{5}{12} < \frac{11}{12}$

18. $\frac{7}{7} > \frac{7}{13} > \frac{7}{15}$

19. 09:05

20. 5:21 p.m.

21. 22:36

22. 12:27 p.m.

23. 00:56

24. 23:48

25. 2小時18分鐘

26. 19:35:16

27. 10:02:59

28. 23:36:15

答案

29. 1000

44. 76

30. 2 公斤 300 克

45. 750

31. 2007

46. 1689

32. 3 kg 40 g

47. 176

33. 50 g

48. 567

34. 95 g

49. 3848

35. 29 g

50. 68

36. 2000

51. 84

37. 1 L 525 mL

52. 1025

38. 3010

39. 5 升 5 毫升

40. $C > A > B$ 41. $D < F < E$

42. 2

43. C